

מצא את ההבדלים + חיוך – עמ' 2



אימפרסיוניזם – עמ' 2

מילים לדוגמה:

- אי
- פרס
- זמין
- מיונז
- אפריון
- פרסומים
- ועוד ועוד...

שלד צרפת – עמ' 9

			מ	י	פ	ל	א				ו	
		ר				ו		נ	א	י	ר	א
		ט	ג	א	ב				ב			ס
		י			י	ר	י	ק	י	ר	א	מ
			נ		פ					נ		י
			ר	י	י	ל	ו	מ		י		ש
	ז		ק						י	ו	ל	ר
		ו					ש			נ		פ
	ל	ש	מ				י				ס	י
		ו		ט		ש		א			ז	י
		ר		י			ו	ג	ר	ק	ס	א
	נ		ו	ס	ב	ק	ו	ל				נ

ריבוע קסם – עמ' 9 –

ל	פ	י	א
ו	ר	ת	י
ז	י	ר	פ
ר	ז	ו	ל

חגיגות מגדל אייפל – עמ' 9 -

מגדל אייפל נבנה בשנת 1889 לכבוד 100 שנים למהפכה הצרפתית

תשחץ – עמ' 10 –

א		מ		ש		מ	
ב		נ	ר	ו	ל	ו	ז
ר	ב	ד	מ	ה	ו		
ה	כ	ו	ז		ב	ה	
מ		ל		י	ר	ל	ס
	מ	י	ג	ד		י	
פ	ו	נ	מ		ר	ז	ג
ה	ר	ה		נ	מ	ה	

סודקו 9 x 9 – עמ' 10 –

1	8	6	7	2	5	9	3	4
9	3	2	1	4	6	5	8	7
4	7	5	9	3	8	1	2	6
5	4	3	2	6	9	8	7	1
6	1	9	3	8	7	4	5	2
8	2	7	4	5	1	3	6	9
7	6	4	8	1	3	2	9	5
2	5	8	6	9	4	7	1	3
3	9	1	5	7	2	6	4	8

קסם צרפת – עמ' 12 –

ר	ק	ת
נ	א	ק
ו	נ	ר

מעוינים בחצר נפוליאון – עמ' 12 –

בתוך המסגרת הסגולה יש 91 מעוינים, חלקם מורכב ממספר מעוינים.

תשחץ – עמ' 13 –

א		נ		ב	
ו		כ	ר	נ	א
ס	י	נ		פ	ג
ק	י		י	ו	ט
ר	נ	י	ר	ט	ו
		ת	י	ר	נ
ה	ר	ו	ב	ד	א
נ	פ	ש		מ	א

חידת הגיון – עמ' 13 –

<u>איפה מסתיים</u>	<u>אורך קטע</u>	<u>צבע קבוצה</u>	<u>קטע מספר</u>
מרסיי	200 ק"מ	קבוצה צהובה	קטע מס' 1
פריז	300 ק"מ	קבוצה כחולה	קטע מס' 2
ליון	100 ק"מ	קבוצה אדומה	קטע מס' 3

טריוויה מפת צרפת – עמ' 14 –

**מה זה קורסיקה?**

2. אי בים התיכון השייך לצרפת

**לאיזו עיר צרפתית יש שם של צבע?**

3. בורדו

**איזה רכס הרים מפריד בין צרפת לספרד?**

2. הפירינאים

**צרפת היא אחת המדינות באירופה עם גישה לים התיכון ובנוסף גם לאוקינוס. מה שמו?**

1. האוקינוס האטלנטי

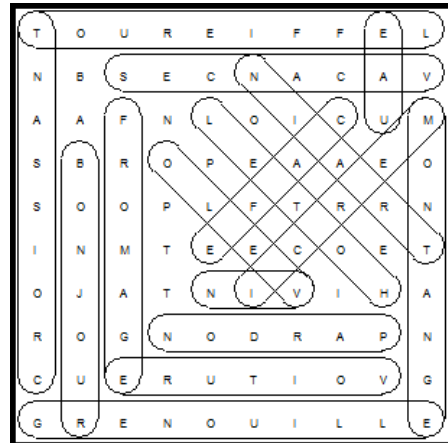
**המון בלאן הוא ההר הגבוה בהרי האלפים. הוא נמצא בגבול עם:**

3. איטליה

איזהו הדגל הנכון? – עמ' 15 –

תשובה ג'

תפזורת צרפתית – עמ' 16 –



המשפט הנוסף: Bon Appetit

מילה מסתרת – עמ' 17 –



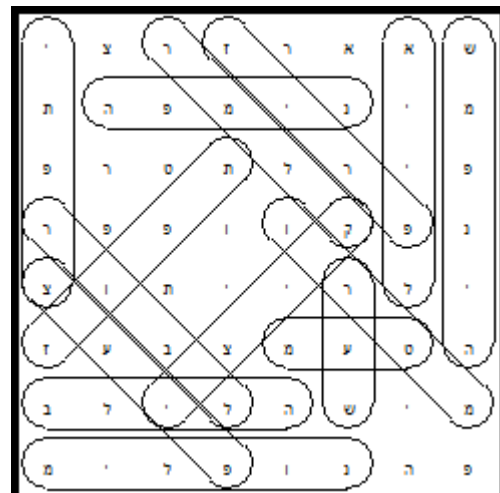
סודוקו 6 X 6 – עמ' 17 -

2	4	5	6	1	3
3	6	1	2	4	5
1	5	4	3	6	2
6	3	2	1	5	4
4	2	6	5	3	1
5	1	3	4	2	6

תשבץ הגיון – עמ' 18 –

ט <sup>4</sup>	מ <sup>3</sup>		י	ת <sup>2</sup>	פ	ר	צ <sup>1</sup>
ע		ב <sup>5</sup>		פ			ע
מ	י	ל	פ	ו	נ <sup>6</sup>		י
		י		ז	י	ר	פ <sup>7</sup>
ר <sup>9</sup>	מ	ל	ק <sup>8</sup>		מ		
ו		ה	י	נ	פ	מ	ש <sup>10</sup>
ב			צ		ה		ע
ל	פ	י	י	א <sup>12</sup>		ו	ר <sup>11</sup>

תפזורת – עמ' 18 –



המשפט הנוסף: ארץ טרופית יפה



מו קרואזי – עמ' 20 -

ק	ל		ע	ד	ר	פ	צ
א		י		ה	נ	י	ר
נ	י	מ	ח		ו		פ
	ד		ת	ר	א	פ	ת
ל		מ	נ		ר	נ	
ו	נ	ר		ע		י	ש
ב	ש		ר	ב	מ	מ	ק
ר	פ	ו	ש		צ		ד

סודוקו 6 X 6 – עמ' 20 -

2	6	4	5	3	1
3	1	5	4	2	6
4	3	6	1	5	2
5	2	1	3	6	4
6	4	3	2	1	5
1	5	2	6	4	3

ריבוע חשבון – עמ' 20 -

7	-	3	+	4	=8
+		-		X	
5	:	1	+	2	=7
:		X		+	
4	-	3	+	1	=2
=3		=6		=9	

מי אני – עמ' 20 -

נפוליאון בונפרטה

פינת הספורט – עמ' 21 –

**באילו מענפי הספורט הבאים, צרפת היא אלופת אירופה?**

ג. שתי התשובות נכונות

**מי זכה בהכי הרבה מרוצי טור גה פראנס אבל כל התארים נשללו ממנו?**

- לאנס ארמסטרונג – זכה ב- 7 תארים רצופים, אך כולם נשללו ממנו עקב שימוש בסמים.

**מתי ולמה לא התקיימו המרוצים?**

בזמן מלחמת העולם – 1914-1918 (מלחמת העולם הראשונה) ו- 1939-1945 (מלחמת העולם השנייה) לא התקיימו בסה"כ 10 מרוצים.

**אורך מסלול הטור דה פראנס –**

- המרחק הממוצע שעוברים הרוכבים בכל יום הוא 170 ק"מ!  
- אם המהירות הממוצעת שלהם היא 50 קמ"ש, כל קטע אורך  $170/50 = 3.4$  שעות, כלומר 3 שעות ו- 24 דקות רכיבה בכל יום!

**רולאן גארוס –**

- הטניסאי המצליח ביותר בתולדות הרולאן גארוס הוא רפאל נדאל, שזכה בטורניר 8 פעמים (נכון לתחילת מאי 2014)  
- הכדורסלן שאביו היה טניסאי מפורסם הוא יואכים נואה, שאביו היה הטניסאי המפורסם יאניק נואה.

פינת ההמצאות – עמ' 22 –

- א. כל עפרון שפיץ = 8. מחדד
- ב. חלקיקים נושאי קרינה, זהירות! = 10. רדיואקטיביות
- ג. איך מנציחים אירועים? = 17. מצלמה
- ד. בעזרתה מכינים בגדים = 19. מכונת תפירה
- ה. איך שולחים לוינים לחלל? = 3. טיל אריאן 5
- ו. עוזר בחידות חשבוניות = 11. מחשבון
- ז. מאפשר לעוורים לקרוא = 9. כתב ברייל
- ח. לא מטוס אבל עף בשמים = 7. כדור פורח
- ט. איתו שומעים את הלב והריאות = 14. מסכת (סטטוסקופ)
- י. מה עוזר לצלם סרטים? = 12. מצלמת קולנוע

מי אני – עמ' 22 –

מארי קירי



בכנס יין יצא סוד – עמ' 23 –

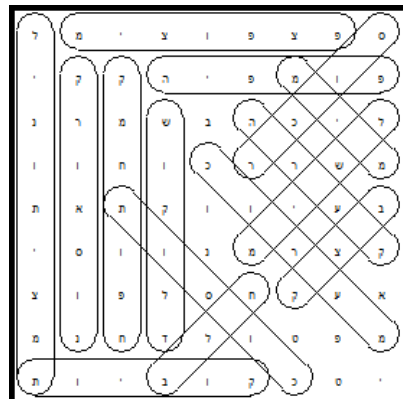
1. קודם כל למזוג 5 ליטרים באמצעות כלי המדידה של 5 ליטר. את 2 הליטרים הנוספים – ממלאים ביין את כלי המדידה של 3 ליטר ומתוכו שופכים ליטר אחד כדי למלא את כלי המדידה של ליטר אחד. נשארים 2 ליטרים בכלי המדידה של 3 הליטרים, אותם מוסיפים ל- 5 הליטרים שמילאנו קודם לכן בחבית –  $5+2=7$  ליטרים המבוקשים.
2. מתחילים שוב במזיגת 5 ליטרים מכלי המדידה בגודל זה, כך שחסרים עוד 2 ליטרים. לאחר מכן ממלאים שוב את כלי המדידה הזה ב- 5 ליטר יין וממנו ממלאים את כלי המדידה של 3 ליטר – כך שנשארים בכלי של 5 הליטרים רק 2 ליטר יין.  $5 + 2 = 7$  ליטר.
3. ממלאים תחילה 5 ליטרים באמצעות כלי המדידה בגודל זה, כך שחסרים עוד 4 ליטרים. ממלאים שוב את כלי 5 הליטרים וממלאים ממנו יין בכלי 3 הליטרים, כך שנשארים בכלי 5 הליטרים 2 ליטרים בלבד.  
מרוקנים את כלי 3 הליטרים וממלאים אותו שוב בשארית היין (2 ליטרים) שנשארה בכלי 5 הליטרים. אז ממלאים שוב את כלי 5 הליטרים ושופכים ממנו כדי למלא את כלי 3 הליטרים. מכיוון שלמילוי כלי 3 הליטרים נחוץ ליטר אחד נוסף, נותרים 4 ליטרים בכלי 5 – שופכים את 4 הליטרים האלו ומקבלים –  $9=5+4$  ליטרים של יין.

חידת מתכון – עמ' 24 –


יש לבחור שתי חבילות שוקולד כלשהן ולשקול אותן.

- אם אחת מהן כבדה יותר, היא חבילת השוקולד המריר
- אם שתיהן במשקל זהה, סימן שהחבילה השלישית היא חבילת השוקולד המריר.

תפזורת קרואסון – עמ' 25 –



סודוקו תמונות – עמ' 26



פירמידה – עמ' 26 -

