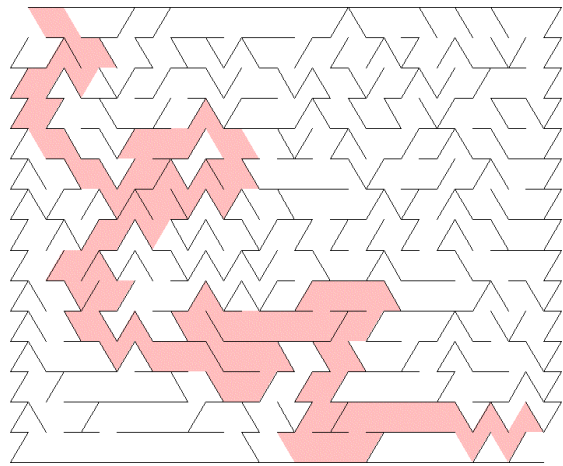


קובץ פתרונות – מכתבים מג'ולי יוון

שלד מילים – עמ' 8

		ת		ת	י	ז	נ	מ	ש
		ר		מ		י		כ	
ס	ו	ד	ו	ר		ת		ב	
נ						ת	י	ר	ע
ט		ה	ק	ה	ו	מ		ה	ל
ו				ו				פ	י
ר		ה	ט	פ	ת	נ	י	ב	ג
י	ת	ל		ל			ט		פ
נ		נ		ק			ס		נ
י	ק	י	ז	י	צ				

מבור – עמ' 9



קסם – עמ' 9

י	פ	ל	ד
א	י	ב	ל
ס	ט	י	פ
ו	ס	א	י

תשחץ – עמ' 10

א		ש		פ		ס	
ט		נ	ו	ט	ל	פ	א
ל	ק			ה	כ	ר	
ס	ו	ט	מ			ט	ע
	ס	ל	ו	ק	ר	ה	
ש	ק		ס		נ		
ו	ו		ק	ל		ב	ג
ר	ס		ה	נ	ת	א	

סודוקו – עמ' 10

8	9	3	1	7	5	6	4	2
7	2	4	8	3	6	9	1	5
5	6	1	2	4	9	3	8	7
2	1	5	6	8	4	7	9	3
4	3	6	9	1	7	5	2	8
9	7	8	5	2	3	4	6	1
3	5	2	4	6	8	1	7	9
6	8	9	7	5	1	2	3	4
1	4	7	3	9	2	8	5	6

חידת מטאורה – עמ' 11

4 שקים בכל משקל – כל העלאה כללה, לדוגמא, נזיר (75 ק"ג) ועוד שק במשקל 15 ק"ג ושק במשקל 10 ק"ג. סה"כ 100 ק"ג ל-4 העלאות ראשונות.

בהעלאה החמישית והאחרונה – נזיר (75 ק"ג) + 4 שקים במשקל 5 ק"ג = 95 ק"ג.

חידת הגיון – עמ' 12

שם מתמודד	לאיזה מקום הגיע?	כמה נסיונות?	מה הפרס
זאוס	שני	3	סוס
אפרודיטה	ראשון	5	פסלון מזהב
דיוניסוס	שלישי	7	עץ זית

תשחץ – עמ' 13

ר		ח		ג		ד	
ע	ב	ר		ל		י	
	נ	ו	ד	י	ס	ו	פ
מ		ס	י	ק	ר	נ	
ר	מ	ת		ר	ק	י	
ת	ק		ד	י		ס	
ו	א	ת		ה	ב	ו	ב
נ	ו	ל	ב		י	ס	

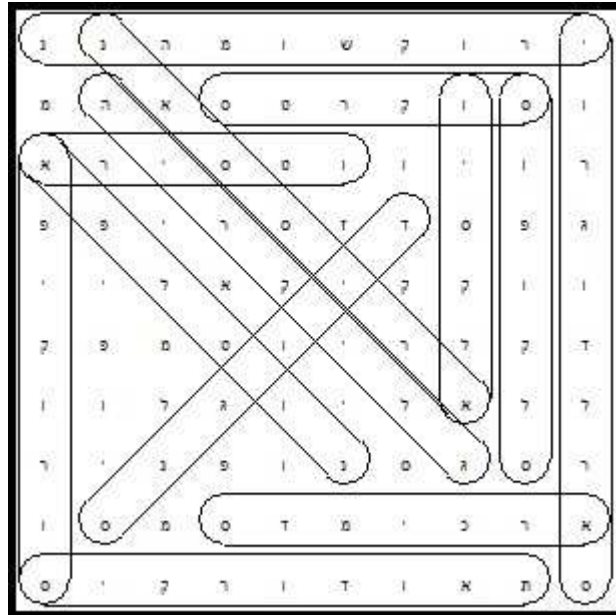
רבוע קסם – עמ' 13

ה	נ	ת	א
ר	ו	ב	ת
מ	ש	ו	נ
ס	מ	ר	ה

מי אני? – עמ' 14

אכילס

תפזורת – יוונים מפורסמים – עמ' 14



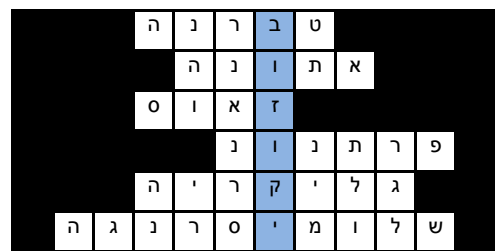
טריווית מפה – עמ' 16

- בין אילו מדינות מפריד הים האגאי?
 1. יון ובולגריה
 2. יון וקפריסין
 3. **יון ותורכיה**
- איזה אי הוא הגדול באיי יון?
 1. רודוס
 2. **כרתים**
 3. איוס
- איזה אי יווני מסמל את הגבול בין אירופה לאפריקה?
 1. **כרתים**
 2. סנטוריני
 3. קוס
- איזו מהמדינות הבאות לא גובלת ביוון?
 1. תורכיה
 2. אלבניה
 3. **צרפת**

- איזו מהערים הבאות היא הצפונית ביותר?
 1. ספרטה
 2. הרקליון
 3. **סלוניקי**

מילה מסתתרת – עמ' 19

המילה המסתתרת: **בוזוקי**



סודוקו 6X6 – עמ' 19

2	1	4	6	3	5
3	5	6	4	1	2
4	2	1	5	6	3
6	3	5	2	4	1
5	6	3	1	2	4
1	4	2	3	5	6

חידת מתכון – עמ' 20

עגבניה

מלפפון

פלפל

זיתים


פינת המדע – עמ' 22

- א. על ג'ולי לחלק תחילה את הכתרים ל- 3 קבוצות בנות 3 כתרים כל אחת.
- ב. לאחר מכן יש להכניס את שלושת הכתרים בקבוצה הראשונה לקערה א' ואת שלושת הכתרים מהקבוצה השניה לקערה ב'.
- ג.1. במידה וכמות המים שנשפכה מכל אחת מהקערות זזה, ברור שהכתר המזויף אינו בקבוצות אלו, אלא בקבוצה השלישית. יש לבצע את סעיף ג' עבור הכתרים מהקבוצה השלישית.
- ג.2. במידה וכמות המים שנשפכה מכל קערה אינה זזה, אנו יודעים שהכתר המזויף נמצא בין אלו שהוכנסו לקערה ממנה נשפכו פחות מים. יש לבצע את סעיף ג' עבור הכתרים מקבוצה ז.
- ג.3. אנו יודעים כעת באיזו קבוצה נמצא הכתר המזויף. ניקח שני כתרים כלשהם מקבוצה זו ונכניס כל אחד מהם לקערה שונה.
- ג.4.1. במידה וכמות המים שנשפכה מכל אחת מהקערות זזה, שני הכתרים הללו עשויים זזה טהור, לפיכך הכתר הזויף הוא האחרון שנשאר ולא הוכנס למים.
- ג.4.2. במידה וכמות המים שנשפכה מכל קערה אינה זזה, אנו יודעים שהכתר המזויף נמצא בקערה ממנה נשפכו פחות מים.

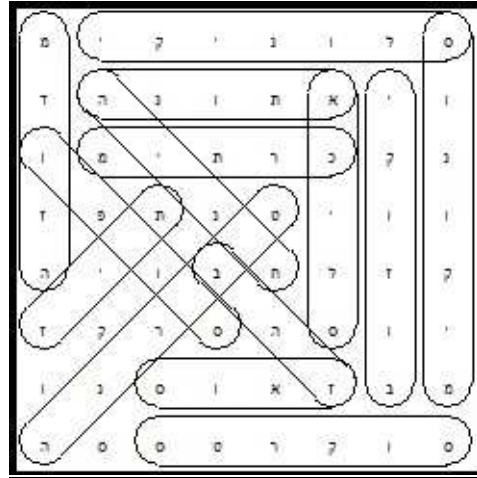
פינת מכון דוידסון – עמ' 23

קוביה

תשבץ הגיון – עמ' 24



תפזרת תשבץ הגיון – עמ' 24



עמודי הפרתנון – עמ' 25

עמוד דורי

ריבוע חשבון - עמ' 26

8	-	4	+	5	=9
+		+		-	
5	+	8	-	4	=9
-		-		+	
4	-	3	+	8	=9
=9		=9		=9	

סטורואולקסו – תשבץ – עמ' 26

	ה	ט	י	ד	ו	ר	פ	א
מ	ר		מ		ש	ג	ר	
ה	ק	ד		נ	ט	ב		מ
	ו	ג	נ	מ		ה	א	ל
ב	ל		ס		ק			א
כ	ס	מ		ד	ר	ו	פ	
ר			י	פ	ל		ו	ר
	ה	נ	ו	ת	א			צ
ס	ל		י	כ	א	ב	ק	ע

פינת הספורט – עמ' 27

1. המשחקים נערכו במשך מעל 1100 שנים, החל בשנת 776 לפני הספירה (ואולי אף קודם לכן).
2. המשחקים היוו פולחן דתי לאל זאוס.
3. רק גברים יוונים הורשו להשתתף בתחרויות.
4. **על המשתתפים בתחרויות נאסר לשתות מים, למעט בלילה, מתוך כבוד לאלים.**
5. המתמודדים השתתפו בתחרויות כשהם ערומים.
6. בשיאם נערכו המשחקים 5 ימים, כאשר 3 מהם יועדו לתחרויות ו- 2 לפולחן וטקסים דתיים.
7. בין ענפי הספורט בהם התחרו במשחקים: ריצה, מרוץ מרכבות, אגרוף, האבקות, זריקת דיסקוס ועוד.
8. המנצח בכל תחרות קיבל ענף עץ זית לראשו ותהילה גדולה בעיר-מדינה ממנה הגיע.
9. לאחר שהאימפריה הרומית כבשה את יון, השתתפו גם רומאים במשחקים האולימפיים.
10. הקיסר הרומאי תיאודוסיאוס הפסיק את המשחקים האולימפיים בשנת 393 לספירה.

טריוויית ספורט – עמ' 27

ריצה

זריקת דיסקוס

זריקת כידון

הדיפת כדור ברזל



תפזרת מיתולוגיה יוונית – עמ' 29

