

פתרונות הולנד – מרוכז

שלד מילים – עמ' 8 –

ב	ל	ח		מ	ד	א			
	ב					מ			
ה	נ	ו	פ	ר	ק	ס	מ		
	ה					ט			ק
ל				ה	ל	ר	צ	ו	מ
נ	ו	מ	ר	א		ד	ה		מ
ד				ר	ט	מ	ו	ר	ב
		ת		ל				ב	ר
נ	ד	ו	א	מ			ה		
				מ					

ריבוע קסם – עמ' 9 –

מ	ו	ת	כ
ה	ל	ע	ת
נ	ז	ל	ו
ה	נ	ה	מ

תשחץ – עמ' 10 –

	ז		ק		ר		
מ	ד	ר	ט	ס	מ	א	
כ	ר	ב			ו	ב	
ס			ל	א	פ	ר	
	ר		כ	ו	ג	נ	ו
ג		ל	ת		נ	ד	
ל	צ	ב		ש	י	ט	פ
י	ד	נ	ל	ו	ה		

סודוקו 9 x 9 – עמ' 10 –

3	4	1	8	7	2	9	5	6
2	7	5	6	9	1	3	4	8
9	8	6	3	4	5	1	2	7
7	6	2	4	3	9	5	8	1
8	5	9	2	1	6	4	7	3
4	1	3	5	8	7	2	6	9
1	2	7	9	6	4	8	3	5
6	3	4	1	5	8	7	9	2
5	9	8	7	2	3	6	1	4

תשבץ החופש הגדול – עמ' 11 –

מ		י	ר	ט		צ	י	ק
ש	א		מ	ו	ג	פ		י
ב	ו	ב	ז		ל	ו		ט
		נ	ו	פ		נ	ו	נ
ב	ר		ר		ש		מ	ה
ר	ו	א		ח	ל		ט	
	נ	ו	י		ש	פ	ו	ח
כ		ד	ו	ר	ו		ב	ס
ה	פ	מ		ש	מ	ש		ה

חידת הגיון – עמ' 12 –

<u>איפה נחת?</u>	<u>כמה אנשים בסל?</u>	<u>ציור על הכדור</u>	<u>צבע הכדור</u>
בשדה	4	דגל הולנד	לבן וירוק
על טחנת רוח	6	כתר	כתום
בתעלה	2	צבעונים	כחול ואדום

תשחץ – עמ' 13 –

	א		ה		ק	
ט	ד	נ	ר	ב	מ	ר
ח	מ	ק		ו	ר	י
נ		נ	ו	ר		י
ת	פ	י		ח	ת	פ
ר	ר	ק	מ		פ	
ו	ד		ה	ד	ו	א
ח	ס	פ		ג	א	ה

רבוע קסם – עמ' 13 –

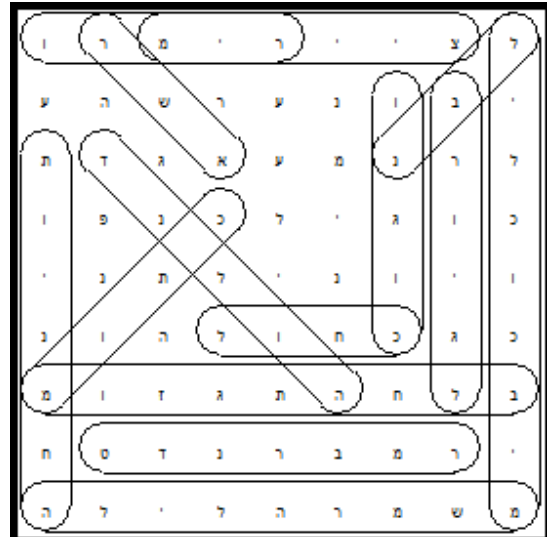
ט	ח	נ	ה
ח	ר	ו	ט
נ	ו	ז	ל
ה	ט	ל	ו

מי אני – עמ' 14 –


וינסנט ון-גוך

תפזורת ציירים – עמ' 14 –

המילים הנוספות: נערה עם עגיל פנינה



מצא את ההבדלים – עמ' 15 –

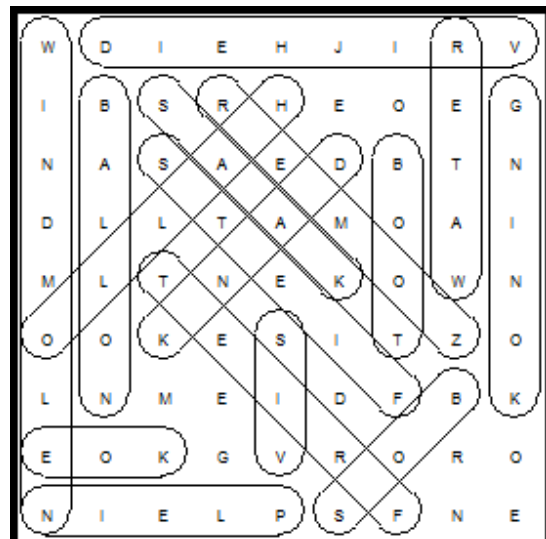


טריוויית מפה – עמ' 16 –

- אם רוצים להגיע מצרפת להולנד, דרך איזו מדינה צריך לעבור?
- שתי התשובות נכונות
- מה פירוש השם Netherland?
- ארץ השפלה
- כמה משטח הולנד שוכן מתחת לפני הים?
- 50% משטח הולנד
- מהו ה'מז'?
- נהר שמתחיל בצרפת ומסתיים בהולנד


איזה כתר? – עמ' 17 –
כתום

תפוזרת שיחון – עמ' 18 –



מילה מסתתרת – מלוכה – עמ' 19 –

מילה מסתתרת – יום המלך



סודוקו 6 על 6 – עמ' 19 –

5	4	6	1	3	2
1	3	2	5	4	6
6	5	4	2	1	3
2	1	3	6	5	4
4	6	5	3	2	1
3	2	1	4	6	5

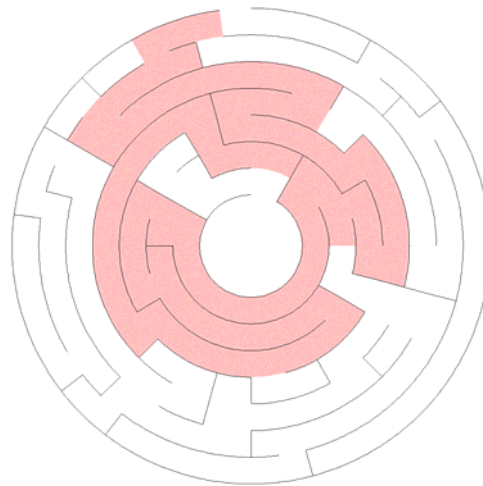
חידת מתכון – עמ' 20 –

תחילה יעביר את הילד וישאיר את הכלב עם הפופרטיס. לאחר מכן יחזור לבדו וייקח את הכלב לצד השני. מכיוון שאי אפשר להשאיר את הכלב עם הילד, הוא ייקח את הילד בחזרה איתו, ישאיר אותו שוב בצד הראשון של התעלה וייקח איתו את הפופרטיס.

אחרי שהוא השאיר בצד השני של התעלה את הכלב והפופרטיס, יחזור לבדו לקחת את הילד ויעביר גם אותו לצד השני.

כך יעברו כולם בשלום.

מבוך גבינה – עמ' 22 –



עמ' 22 – ערימת גבינות –

$$18 \text{ ק"ג} \times 5 = 90 \text{ ק"ג.ג.}$$

$$12 \text{ ק"ג} \times 15 = 180 \text{ ק"ג.ג.}$$

$$5 \text{ ק"ג} \times 30 = 150 \text{ ק"ג.ג.}$$


סה"כ 420 ק"ג גבינה.

הכי הרבה שוקלות הגבינות במשקל 12 ק"ג = 180 ק"ג.

עמ' 23 – מכון דוידסון –

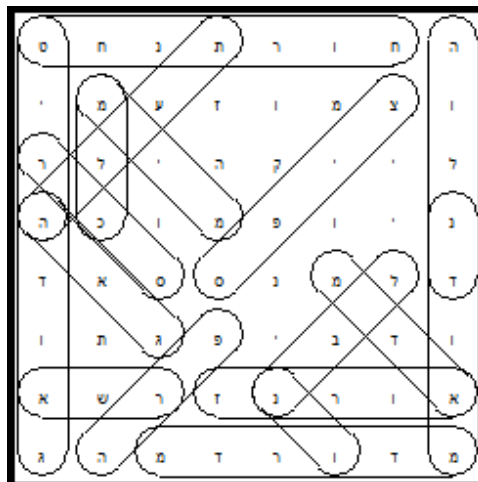
1. בטבעת רגילה רק הצד החיצוני נצבע ואילו ברצועת מביוס הקו עובר על פני כל הרצועה, כמו בציור הנמלים של אשר.
2. טבעת רגילה מתפצלת לשתי טבעות, ואילו גזירה של רצועת מביוס יוצרת למרבה ההפתעה רצועה אחת דקה וגדולה!

תשבץ הגיון – עמ' 24 –



תפזורת תשבץ הגיון – עמ' 24 –

המילים הנוספות: מוזיקה יונית



מבוך אפטלינג – עמ' 25 - ממתין לציור

מה משותף? – עמ' 25 –

כולן חפצים הקשורים לבית המלוכה – מטבע עם תמונת המלכה ביאטריקס, בול עם תמונת המלכה ביאטריקס וסמל בית המלוכה.

קרייסוורדראדסל - Kruiswoordraadsel - תשבץ בהולנדית - עמ' 26 -

ט		מ	י	נ	פ	ו	א
ח		פ	ת		ה		י
נ		ל	ד	פ		ל	ס
ת	פ	צ		ל	ב	מ	ט
ר		ת	ש		ק		ר
	פ		מ	י	ר	ב	ד
ח	ר	ו	פ		ו		מ
		י	נ	ו	ע	ב	צ

סודוקו 6 על 6 - עמ' 26 -

6	2	4	5	3	1
5	3	1	6	2	4
4	6	2	1	5	3
1	5	3	4	6	2
2	4	6	3	1	5
3	1	5	2	4	6

ריבוע חשבון - עמ' 26 -

9	+	5	-	6	=8
X		-		x	
2	-	1	+	3	=4
-		-		+	
8	+	2	-	1	=9
=10		=2		19=	

פינת הספורט – עמ' 27 –

מי אני?
 יוהן קרויף

טריווית ספורט –
 כדורגל
 אופנים
 שחיה

תלבושת נבחרת הולנד –
 כתום-שחור

פינת המדע – עמ' 28 –

1. 3,000 מגה-וואט חשמל.
 2. 60,000 בתים ($60,000 = 3000/0.05$)

סימוני טחנות רוח – עמ' 29 –
 חידה מס' 1 = טחנת רוח מס' 1
 חידה מס' 2 = טחנת רוח מס' 2

סודוקו תמונות – עמ' 30 –

4	2	1	3
1	3	4	2
3	4	2	1
2	1	3	4

- 1 – צבעוני
 2- טחנת רוח
 3- דגל הולנד
 4- נעל עץ